


TRYGG MED TOG

ARBEIDSOPPGAVER FOR SKOLE OG HJEM (1-3.TRINN)




S P Z W S G F A R T
 T L J K A K Q R J P
 A A J W D M I K R G
 N T R E C N G L C X
 S T Y W R L Y S T O
 E F R W A N G Z K G
 V O R B Q T B G R G
 Y R B V O V O A F H
 F M W O X M Z G N B
 D B Y C Y N T U O E


73	74	75	76	77	78				
72						67	66	65	64
Flytt til 68		71	70	69	68				
55	56	57	58	59	60	61			63
54		52		50		49			46
37		39	40	41	42	43	44		45
36	35	1	34	33	32	31	30	29	
	20	21	22	23		25	26	27	28
18	17	16	15	14	13	12	11	10	
Flytt til 20		2	3	4		6			
					Flytt til 6				
						8			
									Flytt til 49

HJEM

1	ARENDALE	12	LARVIK
2	BERGEN	13	LILLEHAMMER
3	BODØ	14	MO I RANA
4	DRAMMEN	15	MOSJØEN
5	EGERSUND	16	NARVIK
6	GJØVIK	17	OSLO
7	HALDEN	18	RIBROS
8	HAMAR	19	SARPSBORG
9	HØNEFOSS	20	SKIEN
10	KONGSVINGER	21	STAVANGER
11	KRISTIANSAND	22	TRONDHEIM
		23	ÅNDALSNES



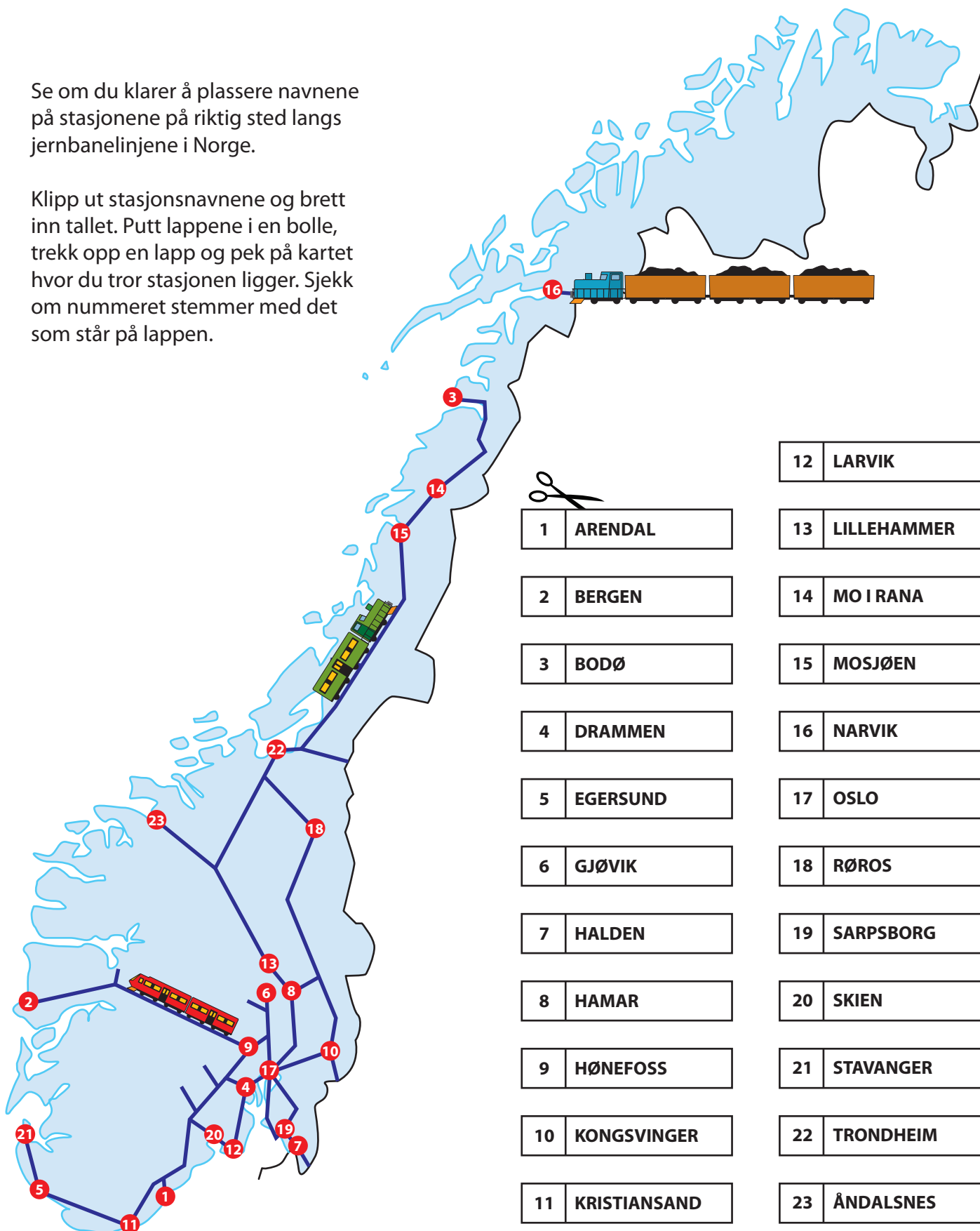
1		2		3					
								4	
									6
						7		8	
						9			



1 - JERNBANESTASJONER

Se om du klarer å plassere navnene på stasjonene på riktig sted langs jernbanelinjene i Norge.

Klipp ut stasjonsnavnene og brett inn tallet. Putt lappene i en bolle, trekk opp en lapp og pek på kartet hvor du tror stasjonen ligger. Sjekk om nummeret stemmer med det som står på lappen.

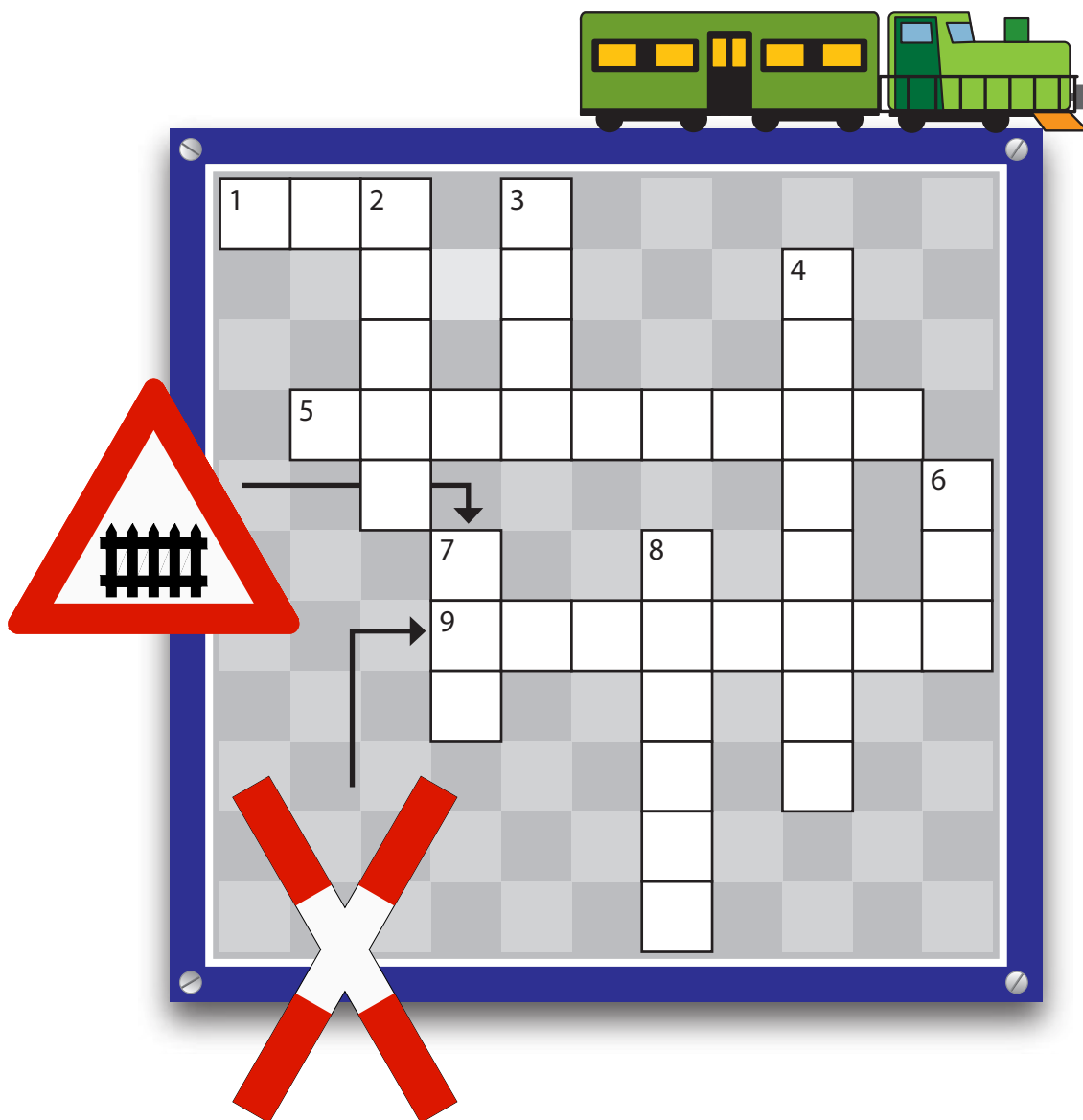


2 - FINN JERNBANEORDENE



Fast: TOG, STANSE, SKILT, PLATTFORM, LYS, JERNBANE, BOM, FART.

3 - JERNBANEKRYSSORD



VANNRETT

- 1 - Brukes som signal i trafikken
- 5 - Der vi venter på at toget skal komme
- 9 - Vi må bare krysse sporet der det er laget et eget sted for ...

LODDRETT

VANNRETT

1: lys, 5: plattform, 9: overgang

LODDRETT

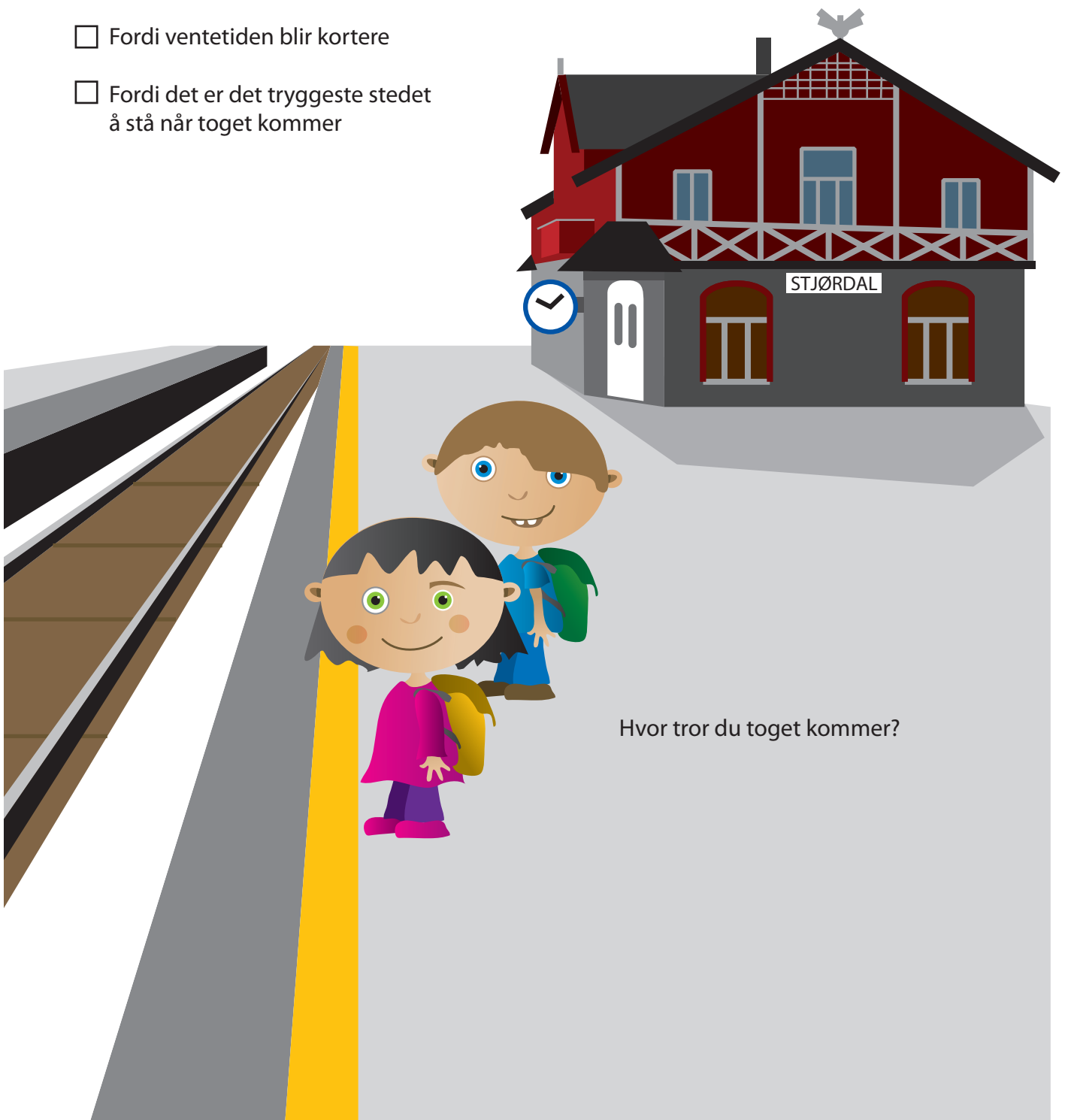
- 2 - Gir opplysninger, varsler om fare eller forteller hva vi må gjøre i trafikken
- 3 - Tog bruker lang tid på å bremse, fordi de har stor ...
- 4 - Trafikk på skinner
- 6 - Går på skinner og har mange vogner
- 7 - Dette skiltet betyr...
- 8 - Tog bruker lang til på å ...

4 - PÅ STASJONEN

MENS VI VENTER PÅ TOGET, STÅR
VI BAK DEN GULE STREKEN

Hvorfor er det så viktig å stå bak
den gule streken, tror du?


- Fordi det ikke regner der
- Fordi ventetiden blir kortere
- Fordi det er det tryggeste stedet
å stå når toget kommer



Hvor tror du toget kommer?

5 FARGELEGG TOGET OG SKINNENE

Kanskje vi ser noen passasjerer i vinduene på toget?



Skriv hvor du tror toget
kommer fra og hvor det skal!

6 - PÅ STASJONEN

LÆR DIKTET UTENAT:

*På stasjonen - vær forsiktig,
det er viktig.
Vent til toget stanser,
det er riktig.*


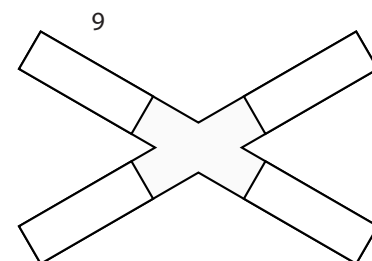
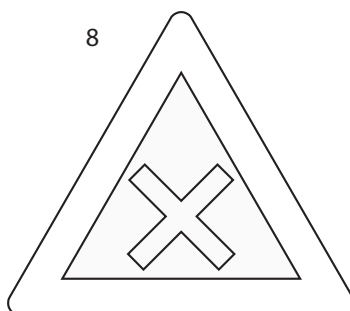


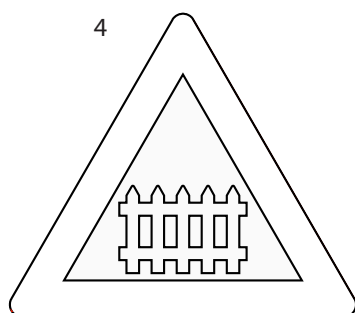

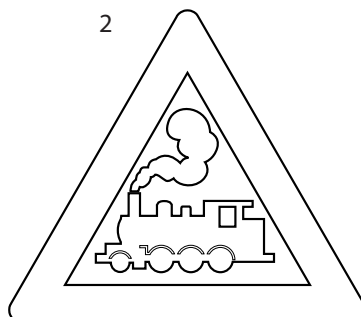

Tegn deg selv på et annet ark, fargelegg, klipp ut og lim inn hvor du vil stå og vente på toget.

Kanskje du tegne, klippe ut og lime inn noen flere passasjerer som venter sammen med deg?



7 - HVA TROR DU SKILTENE BETYR?

Fargelegg skiltene.




1: Gang- og sykkelvei, 2: Planovergang uten bom, 3: Sykehus, 4: Planovergang med bom, 5: Forbudt for gående, 6: Gatetun, 7: Gangvei, 8: Farlig vegkryss, 9: Enkelsporet kryss.

Dette betyr skiltene:

8 - PÅ SKOLEVEIEN

Hva må barna gjøre?




9 - STOPP, SE OG LYTT

Tegn et tog på et annet ark, fargelegg,
klipp ut og lim inn hvor toget kommer.

LÆR DIKTET UTENAT:


Toget kommer fort og stille
Før du vet det - kan det trille
kjapt forbi deg - der du står.
Lytt og se - før du går.



10 - SPILL

REGLER:

Start utenfor spillbrettet på "hjem". Kast en vanlig terning. Kommer du på et blått felt, flytter du brikken frem til det lyseblå feltet i enden av tegningen. Du flytter videre i den retningen som den lyseblå pilen viser. Kommer du på et rødt felt, eller på skilt, må du flytte brikken tilbake til det lyserøde feltet i enden av tegningen eller under skiltet. Du flytter videre i den retningen som den lyserøde pilen viser. Førstemann til skolen vinner.



HJEM