


Oppgave 1



Klikk på alternativet som viser hvordan det er tryggest å krysse veien her.



Oppgave 2



Klikk på skiltet som viser at du kommer til en gang- og sykkelvei.

A



B




C



Oppgave 3



Klikk på skiltet som viser at du kommer til et gangfelt.



Oppgave 4




Klikk på bildet som viser at det er forbudt for alle å kjøre forbi dette skiltet.

A



B




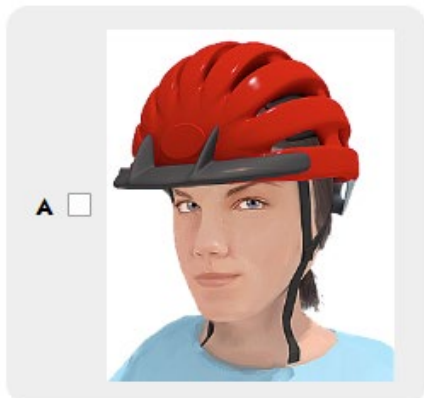
C



Oppgave 5



Hvordan bruker du sykkelhjelmene riktig? Klikk på riktig bilde.



Oppgave 6



Sett kryss ved det utstyret som er påbudt på en sykkel. (Det kan være flere riktige svar):



A Signalklokke (Ringeklokke)

B Brems på bakhjulet

C Brems på forhjulet

D Rød refleks bak

E Lys når du sykler i mørket

Oppgave 7



Du sykler på et fortau, og går av sykkelen for å krysse veien i gangfeltet som fotgjenger. Hva gjør du?



- A Går rett over gangfeltet fordi bilføreren har vikeplikt.
- B Stopper ved gangfeltet, får blikkontakt med bilføreren og ser at bilen stopper før jeg går over.
- C Rekker ut hånda for at bilføreren skal stoppe, og går over.

Oppgave 8



Er det tillatt å sykle der dette skiltet står?



- A** Ja, hvis du tar særlig hensyn til fotgjengere.
- B** Nei, veien er bare for fotgjengere.
- C** Ja, hvis det ikke er fotgjengere på veien.

Oppgave 9



Du sykler i god fart og oppdager plutselig en hindring i veien foran deg. Hvordan bruker du bremsene for å stoppe raskest mulig?



- A Du bruker begge bremsene samtidig, uten å låse hjulene.
- B Du bremser kraftig med bakbremsen og låser hjulet.
- C Du bruker bare forbremsen.

Oppgave 10



Hva betyr det å ha vikeplikt i trafikken?




- A** Du må vente. De andre trafikantene skal kjøre, sykle eller gå før deg.
- B** Du har ikke lov til å sykle.
- C** Du kan sykle først. Alle andre må vente.

Oppgave 11



Hva må du huske på når du skal passere parkerte biler langs veien? Her er det flere riktige svar.


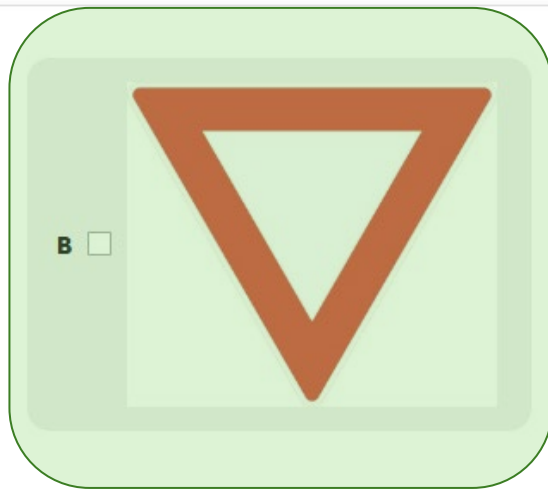
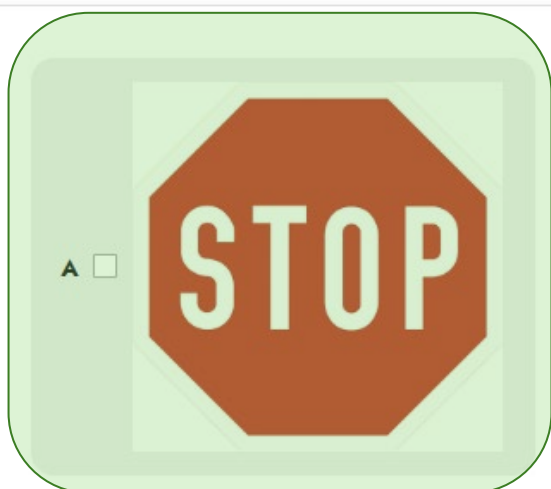


- A Gi tegn til venstre før du svinger.
- B Se deg bakover i god tid for å være sikker på at det ikke er trafikk bak deg.
- C Hold god avstand til bilen som skal passeres.
- D Krysse veien.
- E Gå av sykkelen og trille den forbi bilen.

Oppgave 12



Klikk på skilt som viser vikeplikt. Her kan det være flere riktige svar.



Oppgave 13



Hvem har vikeplikt?



- A Syklisten
- B Fotgjengeren
- C Syklisten og fotgjengeren
- D Ingen

Oppgave 14



Klikk på trafikanten som har vikeplikt



Oppgave 15



Hvem opptrer korrekt i dette eksemplet?



A Bare bilisten

B Bare syklistene

C Bilisten og syklistene

D Ingen